

41,5

Шифр

1-5-5

Всероссийская олимпиада школьников по географии. 2024-2025 учебный год.

Школьный этап. 5 класс

Начинать работу можно с любого задания, однако, мы рекомендуем выполнять задания в том порядке, в котором они даны. Если какое-то задание вызывает у вас затруднение, пропустите его и постарайтесь выполнить те, в ответах на которые вы уверены. К пропущенным заданиям можно будет вернуться, если у вас останется время.

Общее время выполнения работы - 75 минут

Максимальная сумма баллов – 64

Во время выполнения заданий не допускается использование атласов и других источников информации.

Теоретический тур

Задание 1. (6 баллов)

(3,5)

Вставьте слова, пропущенные в тексте:

Земля является третьей по счёту планетой от Солнца. Суточное вращение Земли – это вращение её вокруг своей оси, то есть вокруг воображаемой прямой, проходящей через центр планеты и пересекающей земную поверхность в географических полюсах. Это движение происходит с запада на восток, по часовой стрелке, если смотреть со стороны Северного полушария. Полный такой оборот наша планета совершает за 24 часа. Следствием суточного вращения Земли является смена втегая.

Задание 2. (5 баллов)

(3,5)

Выберите из списка достопримечательности, символы, имена, особенности географического положения и т.п., относящиеся к Калининграду и Зеленоградску (по 5 элементов ответа для каждого из этих городов):

Мемориал 1200 гвардейцам, граница с Литвой, «родина Буратино», историко-культурный центр «Корабельное воскресение», Кранц, «город кошек», изображение венка на гербе, мост



- 5 - Антарктида ✓
 6 - Австралия ✓
 7 - Тихий океан ✓
 8 - Северо-^{ледовитый} Атлантический океан ✓
 9 - Атлантический океан ✓
 10 - Индийский океан



Задание 4. (10 баллов)

95

Разгадайте кроссворд «В мире птиц». Ответьте на вопрос.

По горизонтали: 1. Издали их стая представляется снежным полем розово-красного цвета или розовым облаком, опустившимся на землю. 5. Самая крупная из современных птиц: высота до 2,44 м, масса до 136 кг; обитатель Африки. 6. Птица, живущая главным образом в степях или полупустынях, давшая название книжному издательству. 8. Бескрылая новозеландская птица, за внешнее сходство с которой получили название съедобные плоды актинидии китайской.

По вертикали: 2. С этой птицей связана строчка поэта Н.Заболоцкого «О, деревянная музыка старого чистого леса!» 3. Обитатели Америки. Один из видов – самые маленькие птицы в мире. 4. Бескилевая птица, изображённая на гербе Австралийского Союза. 7. Для японцев эта птица является символом долголетия. 9. Эта птица представлена на фотографии.



Королевы Луизы, Неман, самый западный город России, Музей Ангелов, башня «Дона», завод «Янтарь», Вислинская коса, плавучий маяк «Ирбенский».

Калининград: Мемориал 1200 гвардейцам, Башня «Дона», плавучий маяк «Ирбенский», «Родина Буратино», историко-культурный центр «Корабельное Воскресенье».

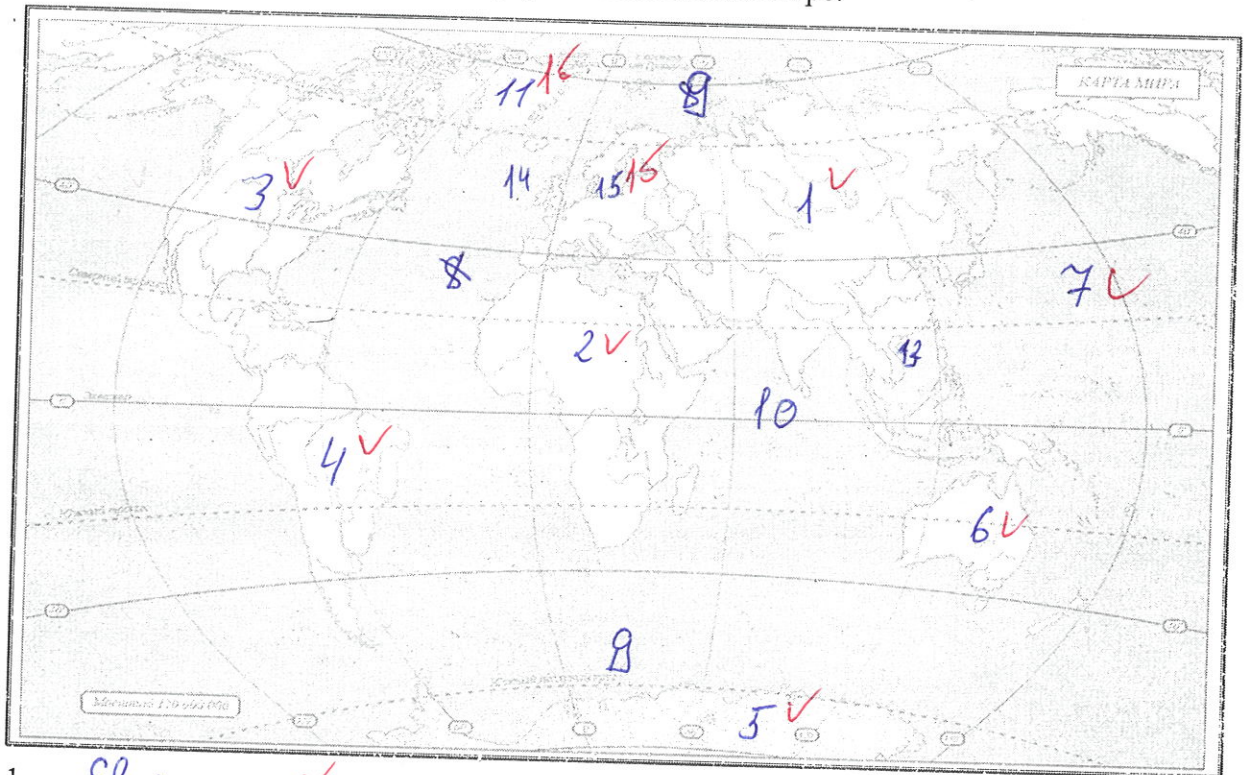
Зеленоградск: Крепость «Город кошек», самый западный город России, Музей Ангелов.

Задание 3. (15 баллов)

9,5

На контурной карте цифрами обозначьте материки (порядковые номера от 1 до 6 в порядке убывания площади, то есть, начиная с самого большого) и океаны (порядковые номера от 7 до 10 в порядке убывания площади, то есть, начиная с самого большого; Южный океан выделять не надо). Расшифруйте свои обозначения.

Также обозначьте номерами: 11 – Гренландия, 12 – Аравийский полуостров, 13 – Мадагаскар, 14 – Средиземное море, 15 – Балтийское море.




- 1 – Евразия ✓
- 2 – Африка ✓
- 3 – Сев. америка ✓
- 4 – Юж. америка ✓

Вопрос:

Какую из птиц кроссворда вы видите на фотографии?

Журавль ✓



Задание 5. (12 баллов)

45

В книге Е.Ульевой «Путешествие по странам: энциклопедия для малышек в сказках» девочка Тая, живущая в России, с помощью волшебного самолёта встречается с юными жителями разных стран, и они знакомят её с особенностями хозяйства, достопримечательностями страны, рассказывают о культуре, традициях своих народов. Вы, ребята, уже не малыши, поэтому постарайтесь сами определить по отрывкам из книги, с каких странах идёт речь.

№	Фрагменты сказок	Страны
1	<p>Тая увидела девочку в платье, украшенном перьями и блёстками.</p> <p>– Давай дружить! – тут же предложила Тая.</p> <p>– погоди, – ответила та, – я тренируюсь. Самба – сложный танец. Мне надо выучить движения, иначе меня не возьмут на карнавал. Мы готовимся к нему целый год...</p> <p>– Как же вы не устаёте? – удивилась Тая.</p> <p>– Пойдём, я тебе что-то покажу, – улыбнулась девочка. – Кстати, меня зовут Габриэлла.</p> <p>Они поднялись на гору, и Тая увидела плантацию деревьев с маленькими красными плодами.</p> <p>– Это кофе, – объяснила Габриэлла. – Плоды собирают, сушат, жарят. Потом зёрна нужно смолоть и заварить...</p>	Китай
2	<p>Миюки повела Таю в сад.</p> <p>– Видишь – это сад камней. А это сакура. Посмотри, как красиво она цветёт. А там, вдали, – Фудзияма...</p> <p>Миюки показала, что умеет: создавать икебану – красивые букеты, выращивать бонсай – крохотные деревья. А потом девочка сделала для Таи журавлика из листа бумаги.</p>	✓ Япония
3	<p>Путь девочек лежал через огромные виноградники.</p>	Россия (Ульяновск)

	– Их в нашей стране очень много, – сказала Мари. – А мы с тобой отправимся на поезде в столицу, стящую на берегах Сены. Ты увидишь музей Лувр, центральную улицу Елисейские поля, символ города – Эйфелеву башню...	Франция ✓
4	Оказалось, что в столице есть целый парк сказочных героев Астрид Линдгрен – «Юнибакен». Тая побывала у Пеппи на её вилле, навестила непоседливого Эмиля. А потом в гостях у Карлсона попробовала мясные тефтельки и плюшки с корицей...	Швеция
5	– ...А ты знаешь, какие у нас города? – продолжал Джованни. – Венеция – город на воде. Пиза. Там башня Пизанская. Много веков падает, никак не упадёт. Флоренция, Милан, Неаполь... Да ты угощайся! Тая попробовала все предложенные блюда: и пасту, и пиццу, и тирамису.	Италия ✓
6	–...Это чудо света сохранилось с древних времён. А сфинкс? Это лев с головой человека, который охраняет покой фараонов в их пирамидах... – Но ведь столько лет прошло! – воскликнула Тая. – Откуда люди всё это узнали? – Остались рисунки внутри пирамид, папирусы. Папирус – это растение на берегах Нила. Его стебли разглаживали, склеивали, а потом писали на них.	Египет ✓ (А) (В)
7	И вот перед ними улицы столицы. Спешат красные двухэтажные автобусы. Впереди Темза. – Это Тауэрский мост, – показала Мэри. – А вот Вестминстерский дворец. А это символ города – башня с часами Биг-Бен...	Англия ✓

В книге есть сказки и о других странах. А вот отрывок из заключительной главы:

«После удивительных приключений самолёт спросил Таю:

– Какая страна тебе понравилась больше всего?

– Как тебе сказать? В каждой стране было что-то замечательное... Как выбрать?

– Не надо ничего выбирать. Существует страна, в которой есть всё это сразу».

Далее самолёт приводит примеры сельскохозяйственных культур, представителей животного мира, достопримечательностей России. Назовите и вы некоторые из них, дополнив более подробными сведениями:

А) Название самого глубокого в мире озера: Байкал ✓

Б) Название знаменитого района горячих фонтанирующих источников и полуострова, на котором он находится: Куршская

8. В каком городе на Мамаевом кургане установлен монумент «Родина-мать зовёт!»?
- а) Москва
б) Санкт-Петербург
в) Курск
г) Волгоград
9. С какой страной Россия не граничит?
- а) Китай
б) Индия
в) Польша
г) Норвегия
10. Какое море не омывает территорию России?
- а) Карское
б) Берингово
в) Красное
г) Баренцево
11. Как называется столица Китая?
- а) Шанхай
б) Осака
в) Токио
г) Пекин
12. Какие горы находятся не в России?
- а) Кавказ
б) Альпы
в) Алтай
г) Урал
13. В какой стране находится город Оденсе, в котором открыт дом-музей Г.Х.Андерсена?
- а) Швеция
б) Норвегия
в) Дания
г) Германия
14. Какой газ занимает наибольший объём в составе воздуха?
- а) азот
б) углекислый газ
в) кислород
г) водород
15. В какую из стран ты сможешь попасть, если поедешь на юг Европы?
- а) в Финляндию
б) в Грецию
в) в Швейцарию
г) в Великобританию
16. Что в переводе с греческого языка означает слово «география»?
- а) «землеописание»
б) «изучение Земли»
в) «изучение природы»
г) «описание природы»

Матрица для записи ответов

1	2	3	4	5	6	7	8	9	10
б ✓	д ✓	б	б ✓	б ✓	з	з.	з ✓	б	б ✓

11	12	13	14	15	16
з ✓	д ✓	а.	б.	б.	а ✓



41,55

Всероссийская олимпиада школьников по географии. 2024-2025 учебный год.

Школьный этап. 8 класс

Начинать работу можно с любого задания, однако, мы рекомендуем выполнять задания в том порядке, в котором они даны. Если какое-то задание вызывает у вас затруднение, пропустите его и постарайтесь выполнить те, в ответах на которые вы уверены. К пропущенным заданиям можно будет вернуться, если у вас останется время.

Общее время выполнения работы - 90 минут

Максимальная сумма баллов – 64

Во время выполнения заданий не допускается использование атласов и других источников информации.

Теоретический тур

Задание 1. (11 баллов)

5

Выберите из списка достопримечательности, символы, имена, особенности географического положения и т.п., связанные с указанными городами Калининградской области (по 5 элементов ответа для каждого из этих городов):

Мемориал 1200 гвардейцам, трамвай-памятник, крепость Пиллау, граница с Литвой, «родина Буратино», Неман, Кранц, завод «Янтарь», «город кошек», конная статуя Елизаветы Петровны, мост Королевы Луизы, самый западный город России, Музей «ФилоСовия», изображение осетра на гербе, башня «Дона», Вислинская коса, плавучий маяк «Ирбенский», Памятник первым переселенцам, курорт, Преголя.

Ответьте на дополнительный вопрос.

Города:

Калининград: Мемориал 1200 гвардейцам, завод «Янтарь», мост королевы Луизы, Преголя, памятник первым переселенцам

Зеленоградск: «Город кошек», граница с Литвой, курорт, Вислинская коса, Башня, Дона

Советск: "Риосовия", Неман, трамвай на мятнике, изображение осетра на чеде, родина "Буратино"

Балтийск: Железная статуя Елизаветы Петровны, самый западный город России, крепость Тильдау, маяк "Урбенский"

Вопрос:
В каком городе сделана фотография?



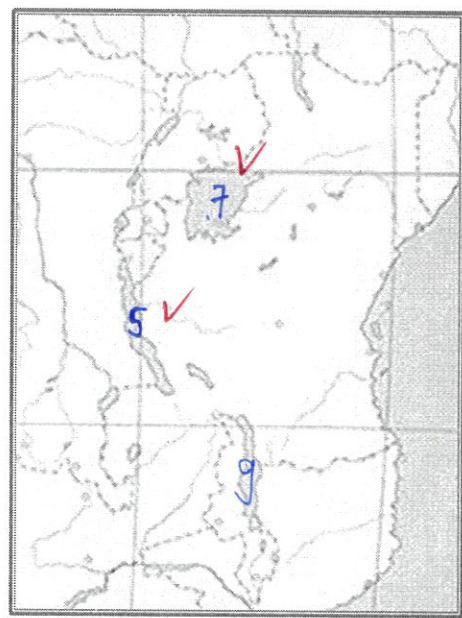
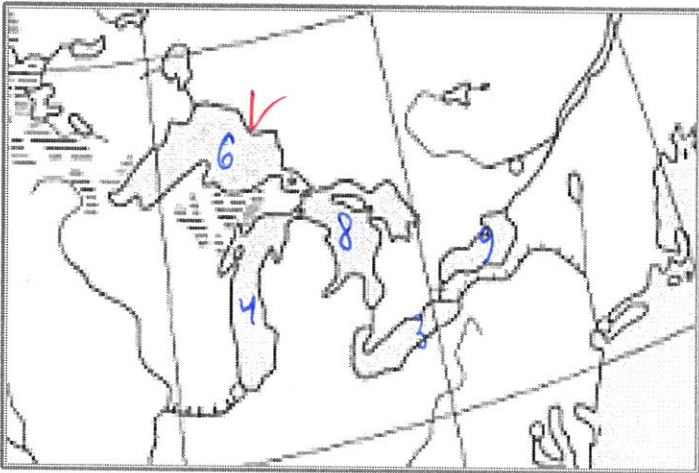
5,56

Задание 2. (13 баллов)

На фрагментах контурных карт Северной Америки и Африки обозначьте озёра, указав их порядковый номер: 1 – Эри, 2 – Ньяса, 3 – Онтарио, 4 – Гурон, 5 – Танганьика, 6 – Верхнее, 7 – Виктория, 8 – Мичиган, 9 – Рудольф.

Ответьте на вопросы, выполните задания.

11,5



Вопросы и задания:
1) Как называется знаменитый водопад

на реке, соединяющей два озера?

2) Отметьте его на карте номером 10.

3) Границей между какими странами служит эта река? США и Канада

10

- 4) Какое озеро является вторым в мире по глубине? Укажите его номер. 4
- 5) На какой реке находится водопад, который называется так же, как одно из озёр? Назовите водопад и реку. _____
- 6) Обозначьте эту реку на карте номером 11.
- 7) Какая страна, образованная путём объединения Республики Танганьика и Республики Занзибар, омывается водами трёх из указанных в задании озёр? Танзания (15)
- 8) У какого озера есть другое название – Туркана? Укажите его номер. 5
- 9) Почему почти все крупные озёра Африки имеют вытянутую форму?
Они тектонического происхождения (15)
- 10) Как называют группы крупных озёр Северной Америки и Восточной Африки?
Великие (16)

Задание 3. (8 баллов)

Дополните таблицу, выбрав названия птиц из списка: птица-секретарь, амазон, клёст, киви, тукан, нанду, фламинго, эму, африканский страус, журавль, кондор, дрофа. Ответьте на вопросы.

№	Некоторые особенности птиц	Названия птиц
1	Бескилевая птица, похожая на страуса, живущая в Южной Америке.	Птица секретарь ✓
2	Бескрылая птица, обитающая в Новой Зеландии.	Киви ✓
3	Попугай лесов Антильских островов, Центральной и Южной Америки.	Амазон ✓
4	Хищная птица, изображённая на гербах Боливии, Колумбии, Чили, Эквадора.	Клёст ✓
5	Среди них есть сосновик, еловик, белокрылый. Обитают в лесах Северного полушария, могут выводить птенцов зимой.	Журавль ✓
6	Птица, живущая главным образом в степях или полупустынях, давшая название книжному издательству.	Дрофа ✓
7	Птица с направленными назад несколькими перьями на голове, изображённая на гербах Судана и ЮАР.	Африканский страус ✓
8	Обитатель Америки (от Южной Мексики до Северной Аргентины) с большим ярко окрашенным клювом.	Тукан ✓
9	Издали их стая представляется снежным полем розово-красного цвета или розовым облаком, опустившимся на землю.	Фламинго ✓
10	Бескилевая птица, изображённая на гербе Австралийского	Эму ✓


	Союза.	
11	Самая крупная из современных птиц: высота до 2,44 м, масса до 136 кг.	Кондор
12	Для японцев эта птица является символом долголетия.	Жакоу

Вопросы:

А) Какого обитателя лесов Евразии, не представленного в таблице, Союз охраны птиц России объявил Птицей 2024 года? Воробей

Б) Как называется не представленная в таблице австралийская птица, которую вы видите на рисунке?

Подсказка: вспомните название музыкального инструмента, считающегося символом поэтического



творчества.

Задание 4. (4 балла)

(46)

Какие особенности рельефа и атмосферных условий приводят к образованию смерчей над Великими и Центральными равнинами Северной Америки? Как североамериканские смерчи называются?

С запада и с востока северную Америку
окружают горы из-за этого холодные массы
воздуха с севера сталкиваются с теплыми мас-
сами с юга и образуются смерчи. Смерчи
в Северной Америке называются "торнадо".

Задание 5. (12 баллов)

(96)

1) В книге Е.Ульевой «Путешествие по странам: энциклопедия для малышей в сказках» девочка Тая, живущая в России, с помощью волшебного самолёта встречается с юными жителями разных стран, и они знакомят её с особенностями хозяйства, достопримечательностями страны, рассказывают о культуре, традициях своих народов. Вы, ребята, уже не малыши, поэтому постарайтесь сами определить по отрывкам из книги, о каких странах идёт речь. Названия стран выберите из списка: Нидерланды, Финляндия, Швеция, Мексика, Куба, Германия, Дания, Шри-Ланка, Исландия, Швейцария, Перу, Узбекистан. Выполните дополнительные задания.

№	Фрагменты сказок	Страны
---	------------------	--------

1	<p>– Я познакомлю тебя с Джани, – сказал самолёт, – он расскажет тебе о стране.</p> <p>Но оказалось, что Джани некогда было рассказывать.</p> <p>– Прости! Я собираюсь в далёкий путь – помочь Деду Морозу, или Йоулупукки, как мы его называем. Он живёт в Лапландии. А в следующий раз я пойду к муми-троллям, которых придумала Туве Янссон...</p>	<p>Джани да ✓</p>
2	<p>В этой северной стране повсюду жили сказки. На берегу сидела Русалочка, провожая в дальний путь корабли. Тая побывала в парке Тиволи, в котором когда-то прогуливался сам Андерсен, а затем увидела памятник писателю возле замка Розенборг. Потом Тая оказалась в парке «Леголенд»...</p>	<p>Даниа ✓</p>
3	<p>Оказалось, что в столице есть целый парк сказочных героев Астрид Линдгрэн – «Юнибакен». Тая побывала у Пеппи на её вилле, навестила непоседливого Эмиля. А потом в гостях у Карлсона попробовала мясные тефтельки и плюшки с корицей...</p>	<p>швеция ✓</p>
4	<p>–..И ещё кактус надо приготовить, – сказала Химена.</p> <p>– Кактусы тоже едят? – удивилась Тая.</p> <p>– Конечно. Их варят, жарят, тушат, фаршируют. А опунцию даже изобразили на гербе нашей страны.</p> <p>...Потом прибыли музыканты в сомбреро, и началось веселье.</p>	<p>Мексика ✓</p>
5	<p>– А ещё в нашей стране много сказок. Давным-давно два брата – Якоб и Вильгельм по фамилии Гримм – отправились в дальний путь, чтобы узнать их все. Так в книгах появились, например, «Госпожа Метелица», «Золотой гусь», «Бременские музыканты».</p>	<p>Германия ✓</p>
6	<p>– Мы любим спорт, – сказал Николас, – летом катаемся на велосипедах, а зимой – на коньках по нашим знаменитым каналам.</p> <p>Тая еле поспевала за Николасом. Наконец они остановились, чтобы понаблюдать за огромными ветряными мельницами, а потом поехали дальше. За городом раскинулось огромное поле. Как ковёр!</p> <p>– Что это? – обомлела Тая.</p> <p>– Тюльпаны, – сказал Николас, – гордость нашей страны.</p>	<p>Нидерланды ✓</p>
7	<p>Лусия сразу стала рассказывать, что её страна – это остров, столица – Гавана.</p>	

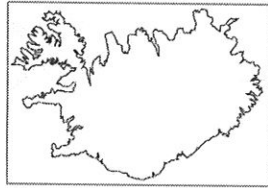
	<p>– Ты где-нибудь видела такой белый песок, такую бирюзовую воду? Наши края называют карибской жемчужиной.</p> <p>Потом подруга угощала Таю ананасами, манго, папайей, бананами.</p> <p>– У нас есть сорта бананов, которые жарят, тушат, запекают. Кстати, ты знала, что из сахарного тростника у нас получают сахар?</p>	Куба ✓
8	<p>Вильгельм был очень пунктуальным. На руке у него были часы – как он сказал, самые точные.</p> <p>– Я стараюсь быть самостоятельным и ничего не бояться, ведь меня назвали в честь Вильгельма Телля – легендарного освободителя нашей страны. Кстати, у нас лучшие банки, самые вкусные сыр и шоколад.</p>	Швейцария ✓
9	<p>– Я должна тебе кое-что показать. Надо торопиться, позже будет жарко,</p> <p>– сказала Малика, заплетая свои чёрные волосы в косички.</p> <p>Вскоре перед девочками развернулось огромное поле, оно было подобно морю с белой пеной.</p> <p>– Хлопчатник уже раскрыл свои коробочки, ждёт, чтобы его скорее собрали, – пояснила Малика.</p> <p>Потом Тая познакомилась с Самаркандом – одним из древнейших городов мира, с Бухарой, которую называют городом-музеем...</p>	Узбекистан ✓
10	<p>Прилетев на остров в Индийском океане, называвшийся раньше Цейлоном, Тая тоже отправилась на поле. Новая подружка Мадуша объясняла:</p> <p>– Мы будем собирать чай. Рви только верхние зелёные листочки. Кстати, в нашей стране есть рубины, топазы, сапфиры, здесь добывают жемчуг...</p>	Шри-Ланка ✓
11	<p>Нильс показал Тае ледник Эйяфьядлайёкюдль, водопад Сельяландсфосс, озеро в долине Тингведлир. Он познакомил гостью со скалами и вулканами, а потом предложил поплавать в горячем бурлящем источнике.</p>	Исландия ✓
12	<p>В этой горной стране Тая подружилась с девочкой по имени Марисоль, которая сразу сказала:</p> <p>– Каждый гость должен увезти из нашей страны пончо из шерсти альпаки.</p> <p>По пути к дому Марисоль они любовались озером Титикака, видели заброшенный город инков – Мачу-Пикчу.</p>	Перу ✓

Задания: Определите, к каким странам относится информация. В качестве ответов укажите номера стран из таблицы:

А) Местные жители называют страну Суоми – «страна болот» 1 06/15

Б) Так выглядит контур страны.

11



06/15

2) В книге есть сказки и о других странах. А вот отрывок из заключительной главы:

«После удивительных приключений самолёт спросил Таю:

– Какая страна тебе понравилась больше всего?

– Как тебе сказать? В каждой стране было что-то замечательное... Как выбрать?

– Не надо ничего выбирать. Существует страна, в которой есть всё это сразу».

Далее самолёт приводит примеры сельскохозяйственных культур, представителей животного мира, достопримечательностей России. Назовите и вы некоторые из них, дополнив более подробными сведениями:

А) Название самого глубокого в мире озера: Байкал 16

Б) Название знаменитого района горячих фонтанирующих источников и полуострова, на котором он находится: Камчатка 16

В) Название самого высокого вулкана Евразии и полуострова, на котором он находится:

Таймир

Тестовый тур

925

На каждый вопрос даны четыре варианта ответов.

Выберите только один правильный и внесите его в матрицу ответов.

Максимально 16 баллов, по 1 баллу за каждый правильный ответ.

1. Звёзды на флаге какой страны символизируют созвездие Южный Крест?

а) Австралийский Союз

б) Китай

в) Босния и Герцеговина

г) Венесуэла

2. Какой вулкан находится на материке Северная Америка?

а) Эребус

б) Кракатау

в) Орисаба

г) Котопахи

3. Какая параллель называется Северным тропиком?

а) 0° ш.

б) 23,5° с.ш.

в) 66,5° с.ш.

г) 23,5° ю.ш.

4. В каком океане расположена Океания?

а) в Тихом

б) в Индийском

- в) в Атлантическом г) в Северном Ледовитом
5. Какое растение не произрастает в степях умеренного пояса?
 а) тюльпан б) сейба в) типчак г) тонконог
6. Выберите верный элемент сравнительной характеристики Австралии и Антарктиды:
 а) Оба материка находятся в Южном полушарии.
 б) Один из них – самый холодный материк, другой – самый жаркий.
 в) На обоих материках – всего по два климатических пояса.
 г) И в Австралии, и в Антарктиде есть области альпийской складчатости и действующие вулканы.
7. Кто первым достиг Южного полюса?
 а) Ф.Нансен б) Р.Пири в) Ф.Беллинсгаузен г) Р.Амундсен
8. Какой географический объект находится в Африке?
 а) Гвианское плоскогорье б) Драконовы горы
 в) Аппалачи г) Большой Водораздельный хребет
9. Какой полуостров расположен в области субтропического средиземноморского климата?
 а) Индостан б) Калифорния в) Юкатан г) Апеннинский
10. Масштаб плана 1:5000. Какому расстоянию на местности соответствует участок плана длиной 4 см?
 а) 2000 м б) 500 м в) 200 м г) 20 м
11. В каком океане солёность наименьшая?
 а) в Тихом б) в Индийском
 в) в Атлантическом г) в Северном Ледовитом
12. Выберите верное окончание утверждения: «Эндемики – это животные и растения, которые...»
 а) ...нигде, кроме данной местности, не встречаются.
 б) ...распространены повсеместно.
 в) ...как вид сохранились без существенных изменений с геологически отдалённых времён.
 г) ...выведены в результате селекции для использования в хозяйственной деятельности.
13. На каком материке находится Патагония?
 а) Северная Америка б) Африка в) Южная Америка г) Австралия
14. В каком городе на Мамаевом кургане установлен монумент «Родина-мать зовёт!»?
 а) Мурманск б) Брянск в) Волгоград г) Курск
15. В какой стране находится национальный парк Серенгети?
 а) Танзания б) Ангола в) Эфиопия г) ЮАР
16. Как называется море, от уровня которого отсчитываются абсолютные высоты в России?
 а) Берингово б) Балтийское в) Белое г) Баренцево

Матрица для записи ответов

1	2	3	4	5	6	7	8	9	10
2	б ✓	д ✓	а ✓	д ✓	а ✓	2 ✓	5 ✓	2 ✓	б ✓

11	12	13	14	15	16
б	а ✓	б ✓	б ✓	д	2

36,5

Шифр

Г-07-06

Всероссийская олимпиада школьников по географии. 2024-2025 учебный год.

Школьный этап. 7 класс

Начинать работу можно с любого задания, однако, мы рекомендуем выполнять задания в том порядке, в котором они даны. Если какое-то задание вызывает у вас затруднение, пропустите его и постарайтесь выполнить те, в ответах на которые вы уверены. К пропущенным заданиям можно будет вернуться, если у вас останется время.

Общее время выполнения работы - 90 минут

Максимальная сумма баллов – 64

Во время выполнения заданий не допускается использование атласов и других источников информации.

Теоретический тур

Задание 1. (16 баллов)

46

Назовите географические объекты, обозначенные на цифрами. Для стран укажите названия столиц. Дополнительные вопросы.

1 – страна Северная Америка
столица Вашингтон

2 – Гудзонский залив

3 – страна Канада
столица _____

4 – страна Мексика ✓
столица Мехико ✓

5 – _____ залив

6 – _____ море

7 – страна Бразилия ✓
столица Бразилиа

8 – страна Испания
столица Мадрид



картосхеме
Ответьте на

Вопросы:

- А) Название какой страны означает «серебряная»? Испания
- Б) На гербе какой страны изображён кактус? Мексика ✓
- В) Как называется канал, разделяющий материки, представленные на картосхеме?

Суэцкий канал

Задание 2. (4 балла)

05

Каковы особенности и причины возникновения ветров муссонов? Летний или зимний муссон приносит на материк осадки?

Причина возникновения муссонов: ^{различные} течения. Осадки на материк приносит зимний муссон. Особенности муссонов: разделяются на летний и зимний; ветер дует с моря и меняет свое направление два раза в год.

Задание 3. (5 баллов)


45

Дополните таблицу, выбрав названия птиц из списка: колибри, киви, дятел, клёст, фламинго, эму, африканский страус, журавль, павлин, дрофа. Названия птиц, не включённых в таблицу, подпишите под фотографиями.

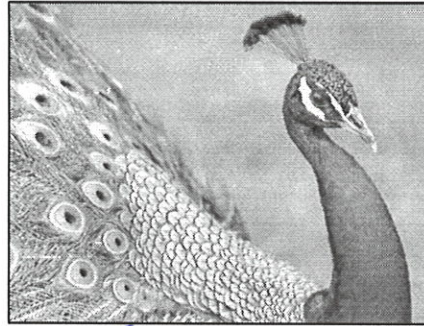
№	Некоторые особенности птиц	Названия птиц
1	Обитатели Америки. Один из видов – самые маленькие птицы в мире.	Колибри ✓
2	Птица, живущая главным образом в степях или полупустынях, давшая название книжному издательству.	Дрофа ✓
3	Бескилевая птица, изображённая на гербе Австралийского Союза.	Киви
4	Среди них есть сосновик, еловик, белокрылый. Обитают в лесах Северного полушария, могут выводить птенцов зимой.	Дрофа клёст ✓
5	Издали их стая представляется снежным полем розово-красного цвета или розовым облаком, опустившимся на землю.	Фламинго ✓
6	Самая крупная из современных птиц: высота до 2,44 м, масса до 136 кг.	Страус эму
7	С этой птицей связана строчка поэта Н.Заболоцкого «О, деревянная музыка старого чистого леса!»	Дятел ✓

8 Для японцев эта птица является символом долголетия.

Павлин муравль ✓



А) киви ✓



Б) Павлин ✓

Задание 4. (11 баллов)

4,56

Выберите из списка достопримечательности, символы, имена, особенности географического положения и т.п., связанные с указанными городами Калининградской области (по 5 элементов ответа для каждого из этих городов):

Мемориал 1200 гвардейцам, трамвай-памятник, крепость Пиллау, граница с Литвой, «родина Буратино», Неман, Кранц, завод «Янтарь», «город кошек», конная статуя Елизаветы Петровны, мост Королевы Луизы, самый западный город России, Музей «ФилоСовия», изображение осетра на гербе, башня «Дона», Балтийская коса, плавучий маяк «Ирбенский», Памятник первым переселенцам, курорт, Преголя.

Ответьте на дополнительный вопрос.

Города:

Калининград: Мемориал 1200 гвардейцам; Башня «Дона»; плавучий маяк «Ирбенский»; Преголя; трамвай-памятник

Зеленоградск: завод «Янтарь»; «город кошек»; Музей «ФилоСовия»; памятник первым переселенцам; курорт.

Советск: граница с Литвой; Неман; Кранц; изображение осетра на гербе; родина Буратино

Балтийск: Крепость Пиллау; Конная статуя Елизаветы Петровны; Мост королевы Луизы; самый западный город России; Балтийская коса.

Вопрос:

В каком городе сделана фотография?

Калининград. ✓



Задание 5. (12 баллов)

905

1) В книге Е.Ульевой «Путешествие по странам: энциклопедия для малышей в сказках» девочка Тая, живущая в России, с помощью волшебного самолёта встречается с юными жителями разных стран, и они знакомят её с особенностями хозяйства, достопримечательностями страны, рассказывают о культуре, традициях своих народов. Вы, ребята, уже не малыши, поэтому постарайтесь сами определить по отрывкам из книги, о каких странах идёт речь. Ответьте на дополнительный вопрос.

№	Фрагменты сказок	Страны
1	<p>Тая увидела девочку в платье, украшенном перьями и блёстками.</p> <p>– Давай дружить! – тут же предложила Тая.</p> <p>– погоди, – ответила та, – я тренируюсь. Самба – сложный танец. Мне надо выучить движения, иначе меня не возьмут на карнавал. Мы готовимся к нему целый год...</p> <p>– Как же вы не устаёте? – удивилась Тая.</p> <p>– Пойдём, я тебе что-то покажу, – улыбнулась девочка. – Кстати, меня зовут Габриэлла.</p> <p>Они поднялись на гору, и Тая увидела плантацию деревьев с маленькими красными плодами.</p> <p>– Это кофе, – объяснила Габриэлла. – Плоды собирают, сушат, жарят. Потом зёрна нужно смолоть и заварить...</p>	Бразилия ✓
2	<p>В этой северной стране повсюду жили сказки. На берегу сидела Русалочка, провожая в дальний путь корабли. Тая побывала в парке Тиволи, в котором когда-то прогуливался сам Андерсен, а затем увидела памятник писателю возле замка Розенборг. Потом Тая оказалась в парке «Леголенд»...</p>	Дания
3	<p>Оказалось, что в столице есть целый парк сказочных героев Астрид</p>	Швеция ✓

	Линдгрэн – «Юнибакен». Тая побывала у Пеппи на её вилле, навестила непоседливого Эмиля. А потом в гостях у Карлсона попробовала мясные тефтельки и плюшки с корицей...	шве- ция
4	– ...А ты знаешь, какие у нас города? – продолжал Джованни. – Венеция – город на воде. Пиза. Там башня Пизанская. Много веков падает, никак не упадёт. Флоренция, Милан, Неаполь... Да ты угощайся! Тая попробовала все предложенные блюда: и пасту, и пиццу, и тирамису.	Италия ✓
5	– А ещё в нашей стране много сказок. Давным-давно два брата – Якоб и Вильгельм по фамилии Гримм – отправились в дальний путь, чтобы узнать их все. Так в книгах появились, например, «Госпожа Метелица», «Золотой гусь», «Бременские музыканты».	Германия ✓

Вопрос: К каким странам относится информация? В качестве ответов укажите номера стран из таблицы.

А) На территории страны находится устье самой полноводной в мире реки. 1 ✓

Б) Народный танец называется Тарантелла. 4 ✓

2) В книге есть сказки и о других странах. А вот отрывок из заключительной главы:

«После удивительных приключений самолёт спросил Таю:

– Какая страна тебе понравилась больше всего?

– Как тебе сказать? В каждой стране было что-то замечательное... Как выбрать?

– Не надо ничего выбирать. Существует страна, в которой есть всё это сразу».

Далее самолёт приводит примеры сельскохозяйственных культур, представителей животного мира, достопримечательностей России. Назовите и вы некоторые из них, дополнив более подробными сведениями:

А) Название самого глубокого в мире озера: Байкал в Сибири ✓

Б) Название знаменитого района горячих фонтанирующих источников и полуострова, на котором он находится: Долина гейзеров на Камчатке ✓

В) Название самого высокого вулкана Евразии и полуострова, на котором он находится: Шевелуха на Камчатке ✓

Тестовый тур

(115)

На каждый вопрос даны четыре варианта ответов.

Выберите только один правильный и внесите его в матрицу ответов.

Максимально 16 баллов, по 1 баллу за каждый правильный ответ.

1. Как называют пойменные озёра?

а) тектонические б) старицы в) карстовые г) термокарстовые

2. Территория какого государства включает в себя самый большой остров на Земле?
а) США б) Россия в) Дания г) Канада
3. На каком материке находится самый большой речной бассейн мира?
а) Северная Америка б) Евразия
в) Южная Америка г) Африка
4. Западное побережье какого материка омывает Индийский океан?
а) Евразия б) Южная Америка
в) Северная Америка г) Австралия
5. Какая горная порода является осадочной?
а) известняк б) гранит в) мрамор г) базальт
6. Типичным представителем животного мира какого материка является зебра?
а) Южная Америка б) Австралия в) Африка г) Евразия
7. В каком море солёность поверхностных вод наибольшая?
а) Красное б) Чёрное в) Средиземное г) Карибское
8. Какая параллель называется Северным тропиком?
а) 0° ш. б) 23,5° с.ш. в) 66,5° с.ш. г) 23,5° ю.ш.
9. Масштаб плана 1:5000. Какому расстоянию на местности соответствует участок плана длиной 4 см?
а) 20 м б) 200 м в) 500 м г) 2000 м
10. Какой газ занимает наибольший объём в составе воздуха?
а) водород б) углекислый газ в) кислород г) азот
11. Для какой природной зоны характерным растением является ковыль?
а) влажные экваториальные леса б) саванны и редколесья
в) степи и лесостепи г) тропические пустыни и полупустыни
12. Кто первым из европейцев достиг берегов Индии морским путём?
а) Х.Элькано б) Марко Поло
в) А.Никитин г) Васко да Гама
13. Как называется море, от уровня которого отсчитываются абсолютные высоты в России?
а) Балтийское б) Берингово в) Белое г) Баренцево
14. В каком городе на Мамаевом кургане установлен монумент «Родина-мать зовёт!»?
а) Москва б) Санкт-Петербург
в) Волгоград г) Курск
15. Какова единица измерения азимута?
а) балл б) градус в) метр г) процент

16. Какое из следующих утверждений является верным?

а) Толщина земной коры сильно различается на разных участках её поверхности.

б) Мрамор относится к числу магматических горных пород.

в) Западная часть материка Южная Америка – равнинная, а в восточной его части расположены высокие горы.

г) Океаническая земная кора значительно толще материковой.

Матрица для записи ответов

1	2	3	4	5	6	7	8	9	10
д ✓	а	б ✓	г ✓	а ✓	б ✓	г ✓	а ✓	д ✓	б ✓

11	12	13	14	15	16
б ✓	а	а ✓	б ✓	д ✓	а ✓

41,56

Шифр

Г-06-04

Всероссийская олимпиада школьников по географии. 2024-2025 учебный год.

Школьный этап. 6 класс

Начинать работу можно с любого задания, однако, мы рекомендуем выполнять задания в том порядке, в котором они даны. Если какое-то задание вызывает у вас затруднение, пропустите его и постарайтесь выполнить те, в ответах на которые вы уверены. К пропущенным заданиям можно будет вернуться, если у вас останется время.

Общее время выполнения работы - 75 минут

Максимальная сумма баллов – 70

Во время выполнения заданий не допускается использование атласов и других источников информации.

Теоретический тур

Задание 1. (6 баллов)

4,5

Вставьте слова, пропущенные в тексте:

Земля является 3^к по счёту планетой от Солнца. Суточное вращение Земли – это вращение её вокруг своей оси¹⁶, то есть вокруг воображаемой прямой, проходящей через центр планеты и пересекающей земную поверхность в географических системах. Это движение происходит с запада на восток, по часовой стрелке^{0,5}, если смотреть со стороны Северного полюса. Полный такой оборот наша планета совершает за 24^к часа. Следствием суточного вращения Земли является смена дня и ночи¹⁶.

Задание 2. (5 баллов)

3

Выберите из списка достопримечательности, символы, имена, особенности географического положения и т.п., относящиеся к Калининграду и Зеленоградску (по 5 элементов ответа для каждого из этих городов):

Мемориал 1200 гвардейцам, граница с Литвой, «родина Буратино», историко-культурный центр «Корабельное воскресение», Кранц, «город кошек», изображение венка на гербе, мост Королевы Луизы, Неман, самый западный город России, Музей Ангелов, башня «Дона», завод «Янтарь», Вислинская коса, плавучий маяк «Ирбенский».

на фотографии (справа).

Вопрос:

Какую из птиц кроссворда вы видите на фотографии?

Павлин, цапля

Задание 5. (13 баллов)

85

В книге Е.Ульевой «Путешествие по странам: энциклопедия для малышей в сказках» девочка Тая, живущая в России, с помощью волшебного самолёта встречается с юными жителями разных стран, и они знакомят её с особенностями хозяйства, достопримечательностями страны, рассказывают о культуре, традициях своих народов. Вы, ребята, уже не малыши, поэтому постарайтесь сами определить по отрывкам из книги, о каких странах идёт речь. Ответьте на дополнительный вопрос.

№	Фрагменты сказок	Страны
1	<p>Тая увидела девочку в платке, украшенном перьями и блёстками.</p> <p>– Давай дружить! – тут же предложила Тая.</p> <p>– погоди, – ответила та, – я тренируюсь. Самба – сложный танец. Мне надо выучить движения, иначе меня не возьмут на карнавал. Мы готовимся к нему целый год...</p> <p>– Как же вы не устаёте? – удивилась Тая.</p> <p>– Пойдём, я тебе что-то покажу, – улыбнулась девочка. – Кстати, меня зовут Габриэлла.</p> <p>Они поднялись на гору, и Тая увидела плантацию деревьев с маленькими красными плодами.</p> <p>– Это кофе, – объяснила Габриэлла. – Плоды собирают, сушат, жарят. Потом зёрна нужно смолоть и заварить...</p>	<p>Бразилия ✓</p>
2	<p>Миюки повела Таю в сад.</p> <p>– Видишь – это сад камней. А это сакура. Посмотри, как красиво она цветёт. А там, вдали, – Фудзияма...</p> <p>Миюки показала, что умеет: создавать икебану – красивые букеты, выращивать бонсай – крошечные деревья. А потом девочка сделала для Таи журавлика из листа бумаги.</p>	<p>Япония ✓</p>

– Как тебе сказать? В каждой стране было что-то замечательное... Как выбрать?

– Не надо ничего выбирать. Существует страна, в которой есть всё это сразу».

Далее самолёт приводит примеры сельскохозяйственных культур, представителей животного мира, достопримечательностей России. Назовите и вы некоторые из них, дополнив более подробными сведениями:

А) Название самого глубокого в мире озера: Байкал ✓

Б) Название знаменитого района горячих фонтанирующих источников и полуострова, на котором он находится: Новая Зеландия.

В) Название самого высокого вулкана Евразии и полуострова, на котором он находится: На Камчатке ✓

Тестовый тур

126

На каждый вопрос даны четыре варианта ответов.

Выберите только один правильный и внесите его в матрицу ответов.

Максимально 16 баллов, по 1 баллу за каждый правильный ответ.

1. Какова единица измерения азимута?

- а) балл б) градус в) метр г) процент

2. Как называются короткие чёрточки на горизонталях, показывающие, в каком направлении понижается склон?

- а) бергштрихи б) миллибары в) футштоки г) изобаты

3. Как называется море, от уровня которого отсчитываются абсолютные высоты в России?

- а) Белое б) Берингово в) Балтийское г) Баренцево

4. Какое из следующих утверждений является верным?

а) Толщина земной коры сильно различается на разных участках её поверхности.

б) Мрамор относится к числу магматических горных пород.

в) Западная часть материка Южная Америка – равнинная, а в восточной его части расположены высокие горы.

15. В каком городе на Мамаевом кургане установлен монумент «Родина-мать зовёт!»?

- а) Москва
б) Санкт-Петербург
в) Волгоград
г) Курск

16. Для какой природной зоны характерным растением является ковыль?

- а) влажные экваториальные леса
б) саванны и редколесья
в) степи и лесостепи
г) тропические пустыни и полупустыни

Матрица для записи ответов

1	2	3	4	5	6	7	8	9	10
б	а	а	в	г	г	б	б	г	б

11	12	13	14	15	16
а	а	г	б	б	г